


ESCOLA: \_\_\_\_\_

DATA: \_\_\_\_/\_\_\_\_/\_\_\_\_

NOME: \_\_\_\_\_

**QUESTÃO 01**

No sítio da D. Benta, Pedrinho e Emília colheram flores para preparar lindos buquês. Você sabe quantas unidades de flores eles colheram?



A quantidade de flores é:

- A) ( ) 52
- B) ( ) 40
- C) ( ) 38
- D) ( ) 60

**QUESTÃO 02**

Pedro tem vinte e cinco figurinhas coladas em seu álbum.



Faça um X no quadrinho que mostra o número de figurinhas do álbum de Pedro.

- A) ( ) 52
- B) ( ) 205
- C) ( ) 25
- D) ( ) 502

ESCOLA: \_\_\_\_\_

DATA: \_\_\_\_/\_\_\_\_/\_\_\_\_

NOME: \_\_\_\_\_

**QUESTÃO 03**

Gabriel, Eliabe, Thiago e Alex são vizinhos e amigos inseparáveis. Um vento forte derrubou a plaquinha com o número da casa de Alex.



Seguindo uma sequência, qual é o número da casa de Alex?


- A) ( ) 67
- B) ( ) 68
- C) ( ) 69
- D) ( ) 70

**QUESTÃO 04**

Rômulo e sua turma estavam brincando de pique esconde. Rômulo estava contando e esperando seus amigos se esconderem. De repente ele esqueceu qual é o número que vem depois do **109** e seus amigos também não sabiam! Será que você é capaz de responder?

Ajude Rômulo e seus amigos marcando a resposta certa!

- A) ( ) 100
- B) ( ) 97
- C) ( ) 110
- D) ( ) 98



ESCOLA: \_\_\_\_\_  
DATA: \_\_\_\_/\_\_\_\_/\_\_\_\_  
NOME: \_\_\_\_\_

**QUESTÃO 05**

Na biblioteca da escola, existe uma estante com **3 dezenas** de livros de poesia. Acontecerá um festival de poesias na escola e a diretora resolveu comprar mais **10 livros**.

Quantos livros de poesia terá na biblioteca?

- A) ( ) 15 livros
- B) ( ) 41 livros
- C) ( ) 40 livros
- D) ( ) 39 livros



**QUESTÃO 06**

Com relação ao valor posicional, quanto vale o algarismo **2** no numeral **263**?

- A) ( ) 2
- B) ( ) 20
- C) ( ) 200
- D) ( ) 2000



**QUESTÃO 07**

Ruan saiu de casa com **18** bolinhas de gude e quando voltou percebeu que tinha somente **7** bolinhas.

Quantas bolinhas de gude ele perdeu?

- A) ( ) 18 bolinhas de gude
- B) ( ) 13 bolinhas de gude
- C) ( ) 12 bolinhas de gude
- D) ( ) 11 bolinhas de gude



ESCOLA: \_\_\_\_\_  
DATA: \_\_\_\_/\_\_\_\_/\_\_\_\_  
NOME: \_\_\_\_\_

**QUESTÃO 08**

Em uma semana, a Sala de Leitura da escola recebeu 4 caixas com 5 livros.



Quantos livros foram recebidos?

- A) ( ) 15 livros
- B) ( ) 20 livros
- C) ( ) 32 livros
- D) ( ) 22 livros

**QUESTÃO 09**

Tenho 18 flores. Quero colocar 6 flores em cada vaso.

- A) ( ) 3 grupos
- B) ( ) 6 grupos
- C) ( ) 8 grupos
- D) ( ) 10 grupos



**QUESTÃO 10**

Paulo adora pintar em tela!

A tela de Paulo tem o formato de qual figura geométrica?



- A) ( ) Círculo
- B) ( ) Quadrado
- C) ( ) Retângulo
- D) ( ) Triângulo

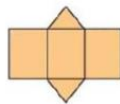
ESCOLA: \_\_\_\_\_

DATA: \_\_\_\_/\_\_\_\_/\_\_\_\_

NOME: \_\_\_\_\_

**QUESTÃO 11**

Veja esse tambor de brinquedo. Ele tem forma de um cilindro.




**A**



**B**



**C**



**D**

Descubra qual é o molde deste cilindro.

A) ( ) A

B) ( ) B

C) ( ) C

D) ( ) D

**QUESTÃO 12**

O dia de João é muito corrido. Todos os dias ele acorda bem cedinho para ir ao trabalho e a noite vai para academia.

Qual caminho ele deverá seguir para ir ao trabalho?



A) ( ) Seguir em frente.

B) ( ) Virar à esquerda.

C) ( ) Virar à direita.

D) ( ) Ir para trás.



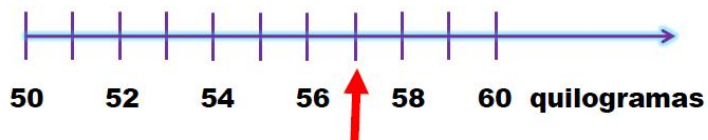
ESCOLA: \_\_\_\_\_

DATA: \_\_\_\_/\_\_\_\_/\_\_\_\_

NOME: \_\_\_\_\_

**QUESTÃO 13**

A seta na reta numérica abaixo, mostra onde está o ponteiro da balança.




Quantos quilogramas a balança está marcando?

- A) ( ) 51
- B) ( ) 53
- C) ( ) 57
- D) ( ) 70

**QUESTÃO 14**

Ana ganhou 3 peixinhos para se juntar com o que ela já tinha no seu aquário novo e já deu até nome para eles.



Nome: Laranjinha  
Tamanho: 11 cm



Nome: Bicudo  
Tamanho: 12 cm



Nome: Azulão  
Tamanho: 10 cm



Nome: Colorido  
Tamanho: 8 cm

Qual deles tem o maior comprimento?

- A) ( ) Azulão
- B) ( ) Bicudo
- C) ( ) Colorido
- D) ( ) Laranjinha